

















Practice, Learn and Achieve
Your Goal with Prepp

SSC CHSL Exam

Tier I Previous Paper

Simplifying
Government Exams

 SSC CHSL	 IAS EXAM	 RRB NTPC	 NTSE	 CDS
 SSC CGL	 CBSE UGC NET	 IBPS PO	 NDA	
 SBI PO	 IBPS CLERK	 AFCAT	 SSC JE	 CTET
 CSIR UGC NET	 CAPF	 IBPS RRB		

www.prepp.in

101. In the following question, some part of the sentence may have errors. Find out which part of the sentence has an error and select the appropriate option. If a sentence is free from error, select 'No Error'.
She has (1)/ reduced her (2)/consumption to considerably (3)/No error (4)
- A. 1 B. 2
C. 3 D. 4

Ans. C

102. In the following question, some part of the sentence may have errors. Find out which part of the sentence has an error and select the appropriate option. If a sentence is free from error, select 'No Error'.
Liquid water cannot exist on the surface of Mars as to low(1)/atmospheric pressure, which is less than 1% of Earth's (2)/except at the lowest elevations for short periods.(3)/No error(4)
- A. 1 B. 2
C. 3 D. 4

Ans. A

103. In the following question, the sentence given with blank to be filled in with an appropriate word. Select the correct alternative out of the four and indicate it by selective the appropriate option.
That is _____ cars I know.
- A. the worst
B. worst
C. mostly worst
D. one of the worst

Ans. C

104. In the following question, the sentence given with blank to be filled in with an appropriate word. Select the correct alternative out of the four and indicate it by selecting the appropriate option.
The _____ of many archaic and dilatory procedures have proved to be extremely damaging to our governance and society
- A. caution
B. translation
C. imposition
D. revolution

Ans. C

105. In the following question, out of the given four alternatives, select the one which best expresses the meaning of the given word.
Curtail
- A. Prolong
B. Downsize
C. Lengthen
D. Extend

Ans. C

106. In the following question, out of the given four alternatives, select the one which best expresses the meaning of the given word.
Inference
- A. Beginning
B. Conclusion
C. Preparation
D. Discovery

Ans. B

107. In the following question, out of the given four alternative, select the one which is opposite in meaning of the given word.
Consensus
- A. Accord
B. Discord
C. Consent
D. Unity

Ans. B

108. In the following question, out of the given four alternatives, select the one which is opposite in meaning of the given word.
Mould
- A. Genuine
B. Shape
C. Slice
D. Sculpt

Ans. A

109. Rearrange the parts of the sentence in correct order.
In developing countries today
P : urban health conditions
Q : than rural health conditions
R : seem to be better
- A. PRQ B. RQP
C. PQR D. QRP

Ans. A

110. A sentence has been given in Active/Passive Voice. Out of four given alternatives, select the one which best express the same sentence in passive/Active Voice.

- The workers are building the house.
- A. The house was being built by the workers.
- B. The house was built by the workers.
- C. The house is built by the workers.
- D. The house is being built by the workers.

Ans. D

111. A sentence has been given in Direct/Indirect Speech. Out of the four given alternatives, select the one which best expresses the same sentence in Indirect/Direct Speech.

Sneha said to Arjun, "Go away."

- A. Sneha ordered Arjun to go away.
- B. Sneha asked Arjun that he should go away.
- C. Sneha say to Arjun to go away.
- D. Sneha inquired Arjun to go away.

Ans. A

112. In the following question, a word has been written in four different ways out of which only one is correctly spelt. Select the correctly spelt word.

- A. Aggression
- B. Aggrsion
- C. Aggression
- D. Agrrsson

Ans. C

113. In the following passage, some of the words have been left out. Read the passage carefully and select the correct answer for the given blank out of the four alternatives.

When the kerosene burned, the fuel in the tank below would be _____ pressure, and _____ a small circular flame would appear in the burner. The valve had to be opened to let more kerosene vapour to the burner and pumping resumed. With the increase in pressure, the burner flame would spread _____ a loud noise. To lower the flame, the valve had to be _____ opened to reduce the pressure and then tightened until the desired flame size was achieved. _____ you wanted the flame to be bigger, you had to hit the piston again. Pump stoves are still in vogue.

below would be _____ pressure

- A. inside B. into

- C. about D. under

Ans. B

14.

In the following passage, some of the words have been left out. Read the passage carefully and select the correct answer for the given blank out of the four alternatives.

When the kerosene burned, the fuel in the tank below would be _____ pressure, and _____ a small circular flame would appear in the burner. The valve had to be opened to let more kerosene vapour to the burner and pumping resumed. With the increase in pressure, the burner flame would spread _____ a loud noise. To lower the flame, the valve had to be _____ opened to reduce the pressure and then tightened until the desired flame size was achieved. _____ you wanted the flame to be bigger, you had to hit the piston again. Pump stoves are still in vogue. _____ and _____ a small circular flame

- A. Slow
- B. Slowly
- C. Slower
- D. Slowest

Ans. B

115.

In the following passage, some of the words have been left out. Read the passage carefully and select the correct answer for the given blank out of the four alternatives.

When the kerosene burned, the fuel in the tank below would be _____ pressure, and _____ a small circular flame would appear in the burner. The valve had to be opened to let more kerosene vapour to the burner and pumping resumed. With the increase in pressure, the burner flame would spread _____ a loud noise. To lower the flame, the valve had to be _____ opened to reduce the pressure and then tightened until the desired flame size was achieved. _____ you wanted the flame to be bigger, you had to hit the piston again. Pump stoves are still in vogue. _____ would spread _____ a loud noise.

- A. within B. with
- C. during D. at

Ans. B

116.

In the following passage, some of the words have been left out. Read the passage carefully and select the

correct answer for the given blank out of the four alternatives.

When the kerosene burned, the fuel in the tank below would be _____ pressure, and _____ a small circular flame would appear in the burner. The valve had to be opened to let more kerosene vapour to the burner and pumping resumed. With the increase in pressure, the burner flame would spread _____ a loud noise. To lower the flame, the valve had to be _____ opened to reduce the pressure and then tightened until the desired flame size was achieved. _____ you wanted the flame to be bigger, you had to hit the piston again. Pump stoves are still in vogue. had to be _____ opened to reduce

- A. partly B. some
C. everything D. none

Ans.
117.

In the following passage, some of the words have been left out. Read the passage carefully and select the correct answer for the given blank out of the four alternatives.

_____ be opened to let more kerosene vapour to the burner and pumping resumed. With the increase in pressure, the burner flame would spread _____ a loud noise. To lower the flame, the valve had to be _____ opened to reduce the pressure and then tightened until the desired flame size was achieved. _____ you wanted the flame to be bigger, you had to hit the piston again. Pump stoves are still in vogue. was achieved. _____ you wanted the flame

- A. if B. Nor
C. So D. Thus

Ans.
118.

In the following question, out of the four alternatives, select the alternative which best expresses the meaning of the idiom/phrase.

A bone of contention

- A. The only part to which two arguing parties agree.
B. An issue over which there is continuing disagreement.
C. A very expensive inherited property.
D. To be happy with only a few things.

Ans. B

119. In the following question, out of the four alternatives, select the alternative which best expresses the meaning of the idiom/phrase.

Zip your lip

- A. Keep quiet about something.
B. To talk fast.
C. To not think before speaking.
D. The silence before a storm.

Ans. A

120. In the following question, out of the four alternatives, select the alternative which is the best substitute of the words/sentence.

A military or political group that rules a country after taking power by force

- A. junta
B. suffrage
C. Emancipation
D. Egalitarianism

Ans. C

121. In the following question, out of the four alternatives, select the alternative which is the best substitute of the words/sentence.

A person who lives outside his native country

- A. Indigenous
B. Natal
C. Expatriate
D. Intrinsic

Ans. C

122. In the following question, out of the four alternatives, select the alternative which will improve the bracketed part of the sentence. In case no improvement is needed, select "no improvement".

At the micro level, the dialectical process of development in India (**has now heading**) towards another direction.

- A. had now heading
B. now heading
C. is now heading
D. no improvement

Ans. C

123. In the following question, out of the four alternatives, select the alternative which will improve the bracketed part of the sentence. In case no improvement is needed, select "no improvement".

I wondered what one would have thought some 40 years ago if you (**had said**) you could heat liquid using a plastic container.

- A. having said
B. had say
C. have saying
D. no improvement

Ans. A
124. The question below consists of a set of labelled sentences. Out of the four options given, select the most logical order of the sentences to form a coherent paragraph.
Cars were owned by
A-only a privileged few and
B-my class of society was
C-as yet untouched by it
A. ABC B. CBA
C. CAB D. BCA

Ans. A
125. In the following question, four words are given out of which one word is correctly spelt. Select the correctly spelt word.
A. arogance
B. arroganse
C. aroganse
D. arrogance

Ans. D
126. निम्नलिखित प्रश्न में दिए गये विकल्पों में से संबंधित शब्द युग्म को चुनिए।
विद्युत प्रवाह : एम्पियर :: ? : ?
A. वायु : जूल
B. कार्य : जूल
C. दाब : गति
D. तापमान : मीटर

Ans. B
127. निम्नलिखित प्रश्न में दिए गये विकल्पों में से सम्बंधित संख्या युग्म को चुनिए।
14 : 16 :: 22 : ?
A. 26 B. 29
C. 24 D. 28

Ans. C
128. निम्नलिखित प्रश्न में दिए गये विकल्पों में से सम्बंधित अक्षर/अक्षरों को चुनिए।
ART : BSU :: MRV : ?
A. KFT B. NSW
C. MFG D. NRV

Ans. B
129. निम्नलिखित प्रश्न में दिए गये विकल्पों में से विषम शब्द युग्म को चुनिए।
A. Car B. Cycle
C. Tyre D. Truck

Ans. C
130. नीचे दिए गये प्रश्न में, चार संख्यां युग्म दिए गये हैं। (-) के बांयी और दी संख्यां (-) क दायीं और दी गयी संख्यां से तर्क/नियम से सम्बंधित है। तीन उसी एक तर्क/नियम के आधार पर समान हैं। दिए गये विकल्पों में से भिन्न को चुनिए।
A. 10-121

B. 12-169
C. 14-225
D. 16-279

Ans. D
131. निम्नलिखित प्रश्न में दिए गये विकल्पों में से सम्बंधित अक्षर/अक्षरों को चुनिए।
A. RTVX B. GIKM
C. DFIK D. LNPR

Ans. C
132. निम्नलिखित शब्दों को शब्दकोश में आने वाले क्रम के अनुसार लिखें।
1. Journey 2. Judge
3. Jingling 4. Jingle
5. Judgement
A. 32541
B. 53142
C. 43125
D. 15342

Ans. C
133. निम्नलिखित प्रश्न में दिए गये विकल्पों में से लुप्त अंक ज्ञात कीजिए।
11, 13, 16, 18, 21, ?
A. 29 B. 25
C. 27 D. 23

Ans. D
134. एक अनुक्रम दिया गया है, जिसमें से एक पद लुप्त है। दिए गये विकल्पों में से वेह सही विकल्प चुनिए, जो अनुक्रम को पूरा करें।
IM, JO, KQ, LS, ?
A. NV B. MU
C. MY D. NT

Ans. B
135. लड़कों के एक पंक्ति में, पुनीत का स्थान बांयें छोर से 33-वाँ है तथा अंकित का स्थान दांयें छोर से 25-वाँ है। उनके स्थानों को परस्पर बदलने के पश्चात, पुनीत का स्थान बांयें छोर से 45-वाँ हो जाता है। पंक्ति में कितने लड़के हैं?
A. 70 B. 71
C. 69 D. 74

Ans. C
136. दिए गये विकल्पों में से वेह शब्द चुनिए जो दिए गये शब्द के अक्षरों का प्रयोग करके नहीं बनाया जा सकता है
Threatened
A. Heart
B. Detain
C. Treat
D. Heated

Ans. B
137. एक विशिष्ट कोड भाषा में, "book is tough" को "fu la mi", लिखा जाता है "tough can easy" को "fu muk po"

लिखा जाता है "easy not book" को "ti po la". लिखा जाता है। इस कोड भाषा में "tough" का कोड क्या है?

- A. mi B. Po
C. la D. fu
D

Ans.

138. किसी निश्चित कोड भाषा में, '-' 'x', को प्रदर्शित करता है, '÷' '+' को प्रदर्शित करता है, '+' '÷' को प्रदर्शित करता है और 'x' '-' को प्रदर्शित करता है। निम्नलिखित करता है। निम्नलिखित प्रश्न का उत्तर ज्ञात करें।

- $2 - 12 + 10 \times 5 \div 12 = ?$
A. 32 B. 8
C. 4 D. 14

Ans.

139. निम्नलिखित समीकरण गलत है। इस समीकरण को सही करने के लिए किन दो चिन्हों को आपस में अदला-बदली करना चाहिए?

- $1 \div 14 \times 30 + 20 - 10 = 12$
A. - and +
B. ÷ and x
C. x and -
D. ÷ and +

Ans.

140. यदि $8*2 = 3$, $14*18 = -2$ और $18*2 = 8$, तो $14*10$ का मान ज्ञात करें।

- A. 2 B. -5
C. -2 D. 6

Ans.

41. निम्नलिखित में से कौन सा पद दी गयी सूचना के क्रम के अनुसार है?

XxXXXXX, XXxXXXX, XXXxXXX,
XXXXxXX, XXXXXxX, _____.

- A. xXXXXXX
B. XxXXXXX
C. XXXXXXXx
D. XXxXXXX

Ans.

142. एक ऑटो रिक्शा वाला एक यात्री को अपनी रिक्शा में बिठाता है और उत्तर की ओर 6.5 कि.मी. की यात्रा करता है, फिर वह अपनी बाईं तरफ मुड़ जाता है और आगे 1.5 कि.मी. तक जाता है, फिर वह दक्षिण की तरफ मुड़ता है और आगे 2.5 कि.मी. तक जाता है, वह अपनी बांयी तरफ मुड़ता है और आगे 1.5 कि.मी. तक जाता है। अपनी शुरुआती स्थिति के संबंध में वह ऑटो अब कहाँ है?

- A. 9 कि.मी. उत्तर
B. 4 कि.मी. दक्षिण

- C. 4 कि.मी. उत्तर
D. 9 कि.मी. दक्षिण

Ans.

143. प्रश्न में दो कथन दिए गये हैं जिसके आगे दो निष्कर्ष I और II निकले गये हैं। आपको मानना है कि दोनों कथन सत्य हैं चाहे वे सामान्यतः ज्ञात तथ्यों से भिन्न होते हों। आपको निर्णय करना है की दिए गये निष्कर्षों में से कौन-सा/कौन से निश्चित रूप से कथन द्वारा सही निकला जा सकता है/सकते हैं, यदि कोई हो।

कथन I: कोई भी बाइक्स दो पहिया वाहन नहीं होते

कथन II: सभी पहिये बाइक्स होते हैं

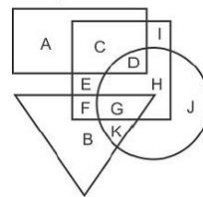
निष्कर्ष I: कोई भी दोपहिये वाहन नहीं होते

निष्कर्ष II: सभी पहिये दोपहिया वाहन होते हैं

- A. केवल निष्कर्ष I सही है
B. केवल निष्कर्ष II सही है
C. दोनों निष्कर्ष I और II सही हैं
D. न तो निष्कर्ष I सही है और न निष्कर्ष II

Ans.

144. निम्नलिखित आकृति में, आयत चिक्त्सकों को प्रदर्शित करता है, वृत्त पुष्प डिजाइनरों को प्रदर्शित करता है, त्रिभुज मूर्तिकारों को प्रदर्शित करता है, और वर्ग अमेरिकों को प्रदर्शित करता है, अक्षरों का कौन सा समूह उन अमेरिकों को प्रदर्शित करता है, जो पुष्प डिजाइनर या म मूर्तिकार हैं



- A. FGDH B. FGK
C. FHJD D. GK

Ans.

145. एक अनुक्रम दिया गया है जिसमें से एक पद लुप्त है। दिए गये विकल्पों में से वह सही विकल्प चुनिए, जो अनुक्रम को पूरा करे।
MPQ, NQR, ORS, ?

- A. QTU B. QST
C. PST D. PTU

Ans.

146. निम्नलिखित प्रश्न में से दिए गये विकल्पों में से लुप्त अंक ज्ञात कीजिए।

10,12,14,16,18,?

- A. 22 B. 24
C. 20 D. 26

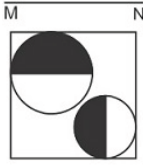
Ans. C

147. निचे दिए गये प्रश्न में, तीन संख्याओं के चार समूह दिए गये हैं। प्रत्येक समूह में दूसरी संख्या पहली संख्या से किसी एक तर्क/नियम से सम्बंधित है। तीन उसी एक तर्क/नियम के आधार पर समान है। दिए गये विकल्पों में से भिन्न को चुनिए।

- A. (2,3,4)
B. (4,5,6)
C. (6,7,8)
D. (4,6,8)

Ans. D

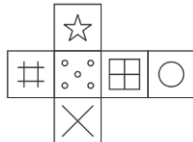
148. यदि एक दर्पण को MN रेखा पर रखा जाये तो दी गयी उत्तर आकृतियों में से कौन-सी आकृति प्रश्न आकृति का सही प्रतिबिम्ब होगी?



- A.
- B.
- C.
- D.

Ans. C

149. निम्नलिखित उत्तर आकृति में से कौन सा घन दिए गये प्रश्न आकृति में से खुले घन से बनाया नहीं जा सकता?



- A.
- B.
- C.
- D.

Ans. D

150. एक शब्द केवल संख्या समूह द्वारा दर्शाया गया है, जैसा कि विकल्पों में से किसी एज में दिया गया है। विकल्पों में दिए गये संख्या-समूह अक्षरों के दो वर्गों द्वारा दर्शाए गये हैं, जैसा कि दिए गये दो आव्यूहों में है। आव्यूह-I के स्तंभ और पंक्ति की संख्या 0 से 4 और आव्यूह-II की 5 से 9 है। इन आव्यूहों से एक अक्षर को पहले उसकी पंक्ति और बाद में स्तंभ संख्या द्वारा दर्शाया जा सकता है। उदाहरण के लिए 'H' को 21 और 34 आदि द्वारा दर्शाया जा सकता है तथा 'Q' को '95, 86 आदि द्वारा दर्शाया जा सकता है। इसी तरह से आपको प्रश्न में दिए शब्द 'BURN' के लिए समूह को पहचानना है।

Matrix I					
	0	1	2	3	4
0	M	J	I	J	F
1	B	F	H	F	B
2	L	D	A	B	A
3	K	C	C	D	H
4	B	F	K	I	K

Matrix II					
	5	6	7	8	9
5	Z	X	W	O	Z
6	R	Y	S	W	O
7	Y	P	S	W	R
8	Y	Q	R	Z	Y
9	N	Z	S	U	S

- A. 43,69,13,56
B. 30,75,11,97
C. 44,79,11,57
D. 44,79,11,57

Ans. C

151. $(37^{57}+43^{57})$ and $(37^{37}+43^{37})$ का समापवर्तक ज्ञात कीजिए।

- A. $(43 - 37)$
B. $(43+37)$
C. $(37^{37}+43^{37})$
D. 10

Ans. D

152. $\frac{(61681 \times 61681 - 31681 \times 31681)}{30000}$ का मान ज्ञात कीजिए।

- A. 93352
B. 94362
C. 93362
D. 95362

Ans. A

153. 'g' के किस मान के लिए, $6x + 12y + 9 = 0$ और $2x + gy + 3 = 0$ के रेखीय ग्राफ में संसाधनों की अनंत संख्या है?

- A. 3 B. 4
C. 6 D. 9

Ans. B

154. $x = -4$, $x = 2$, $y = -2$ और $y = 3$ रेखाओं के ग्राफ द्वारा संलग्न आकड़े का क्षेत्रफल (स्क्वायर इकाइयों में) क्या है??

- A. 12 B. 24
C. 15 D. 60

Ans. C

155. AB वृत्त की जीवा है और वृत्त का केंद्र "o" है। यदि AB की लम्बाई 20 से.मी., ON $-(2\sqrt{11})$ cm है, तो वृत्त की त्रिज्या (से.मी. में) ज्ञात कीजिए।

- A. 10 B. 12
C. 13 D. 15

Ans. B

156. वृत्त की सबसे बड़ी जीवा की लम्बाई 20.4 सेमी है। वृत्त का त्रिज्या _____ है।

- A. 10.2 से.मी.
B. 10.2 से.मी. से बड़ी
C. 10.2 से.मी. से बड़ी या बराबर
D. 10.2 सेमी से कम

Ans. A

157. एक आयत की लम्बाई तथा चौड़ाई को क्रमशः 40% तथा 70% से बढ़ाया गया है। आयत के क्षेत्रफल में कितने प्रतिशत की वृद्धि होगी?

- A. 118 B. 110
C. 138 D. 128

Ans. C

158. 6300 रु को A, B तथा C में $1/2 : 1 : 3/5$ के अनुपात में विभाजित किया गया है। B का हिस्सा (रु में) क्या है?

- A. 3300 B. 2700

C. 3000 D. 4200

Ans. C

159. U तथा V ने क्रमशः 184000 रु तथा 224000 रु की राशि निवेश करके एक व्यापार शुरू किया। यदि वर्ष के अंत में प्राप्त हुए लाभ में U का हिस्सा 20700 रु है, तो उनके द्वारा मिलकर कमाया गया कुल लाभ (रु में) क्या होगा?

- A. 43200
B. 45900
C. 52300
D. 56400

Ans. B

160. प्रथम 19 विषम संख्याओं का औसत क्या है?

- A. 9.5 B. 15.5
C. 19 D. 38

Ans. C

161. एक राशि साधारण ब्याज दर से 2 वर्षों में 1392 रु तथा 3 वर्षों में 1488 रु हो जाती है। प्रति वर्ष ब्याज की दर (प्रतिशत में) क्या है?

- A. 8 B. 10
C. 12 D. 8.5

Ans. A

162. एक मेज का विक्रय मूल्य 2808 रु है। यदि लाभ प्रतिशत 17% है, तो मेज का क्रय मूल्य (रु में) क्या है?

- A. 2288 B. 2300
C. 2400 D. 3285

Ans. C

163. एक कुर्सी का अंकित मूल्य उसके क्रय मूल्य से 40% अधिक है। यदि कुर्सी को 40 रु की छूट के पश्चात् 520 रु में बेच गया है, लाभ प्रतिशत क्या होगा?

- A. 33 B. 40
C. 25 D. 30

Ans. D

164. निम्न में से कौन सा/से कथन सत्य है/हैं?

- I. $2\sqrt{3} > 3\sqrt{2}$
II. $4\sqrt{2} > 2\sqrt{8}$

- A. केवल I
B. केवल II
C. न तो I न ही II
D. I और II दोनों

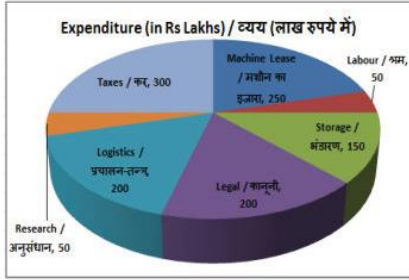
Ans. C

165. X, Y तथा Z एक कार्य को क्रमशः 30, 40 तथा 50 दिनों में पूरा कर सकते हैं। तीनों मिलकर कार्य शुरुआत करने हैं परन्तु Y कार्य समाप्त होने से 4 दिन पूर्व कार्य छोड़कर चला जाता है। कार्य कितने दिनों में पूरा हुआ होगा?

- A. 660/47

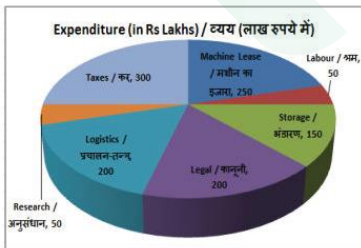
- C. 680/47
D. 665/47
- Ans. A
166. एक रेलगाड़ी 72 कि.मी./घंटा की गति से चल रही है 1400 मी. की दूरी तय करने में वह कितने सेकंड लेगी?
- A. 70 B. 80
C. 72 D. 84

- Ans. A
167. यह पाई चार्ट रश 2017के लिए खन्नन कंपनी के व्यय का विभजन प्रदर्शित करता है। इस आरेख का अध्ययन करें और निम्नलिखित प्रश्नों के उत्तर दें।



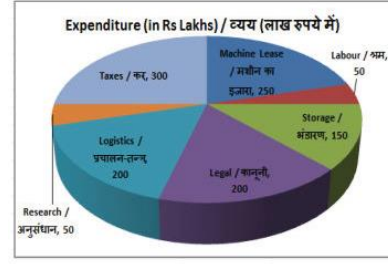
दूसरा सर्वाधिक व्यय किस मद पर किया गया है?

- A. श्रम
B. भण्डारण
C. कानूनी
D. मशीन का इजारा'
- Ans. D
168. यह पाई चार्ट रश 2017के लिए खन्नन कंपनी के व्यय का विभजन प्रदर्शित करता है। इस आरेख का अध्ययन करें और निम्नलिखित प्रश्नों के उत्तर दें।



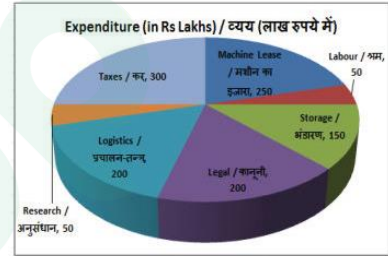
कुल व्यय (लाख रु में) क्या है?

- A. 1200 B. 900
C. 1000 D. 1100
- Ans. A
169. यह पाई चार्ट रश 2017के लिए खन्नन कंपनी के व्यय का विभजन प्रदर्शित करता है। इस आरेख का अध्ययन करें और निम्नलिखित प्रश्नों के उत्तर दें।



मशीन का इजारा का प्रतिनिधित्व करने वाले क्षेत्र के केन्द्रीय कोण का माप ___ डिग्री है।

- A. 70 B. 75
C. 80 D. 90
- Ans. B
170. यह पाई चार्ट रश 2017के लिए खन्नन कंपनी के व्यय का विभजन प्रदर्शित करता है। इस आरेख का अध्ययन करें और निम्नलिखित प्रश्नों के उत्तर दें।



श्रम और अनुसन्धान पर किया जाने वाला व्यय कुल व्यय का कितना प्रतिशत है?

- A. 10%
B. 12%
C. 7.5%
D. 8.33%
- Ans. D
171. एक आयत की विकर्ण की लम्बाई और उसके चौड़ाई क्रमशः 17 से.मी. है। इसका परिमाण (सें.मी. में) ज्ञात करें।

- A. 92 B. 46
C. 42 D. 84

- Ans. B
172. एक अर्धवृत्त का क्षेत्रफल 1925 वर्ग सें.मी. है। इसके परिमाण (सें.मी. में) की गणना करें।
- A. 360 B. 80
C. 160 D. 180

- Ans. D
173. एक गोले की सतह का क्षेत्रफल 5544 वर्ग से.मी. है। इसका व्यास (सें.मी. में) ज्ञात करें।
- A. 42 B. 21
C. 84 D. 63

- Ans. A
174. ΔABC में B पर समकोण है। यदि $m\angle A = 45^\circ$ है, तो $(\operatorname{cosec} C + 1/\sqrt{3})$ का मान ज्ञात करें

- Ans. D
175. ΔUVW में कोण V का माप 90° है। यदि $\operatorname{cosec} U = 13/12$, और $UV = 2.5$ से.मी., तो भुजा VW , की लम्बाई (से.मी. में) क्या है?
- A. 6.5 B. 6
C. 4 D. 5.6
- Ans. B
176. निम्नलिखित अर्थव्यवस्था में से कौन उत्पादन के कारकों पर व्यक्तिगत स्वामित्व रखता है?
- A. पूंजीवादी
B. समाजवादी
C. मिश्रित
D. पूंजीवादी और समाजवादी दोनों
- Ans. A
177. गरीबी रेखा की समीक्षा की अवधारणा के लिए कौन-सी समिति गठित की गयी थी?
- A. एस तेंडुलकर समिति
B. लकड़ावाला समिति
C. वाचू समिति
D. दत्त समिति
- Ans. A
178. निम्न में से कौन-सा स्थल नवपाषाण युग का प्राचीनतम प्रमाण प्रस्तुत करता है?
- A. चिरद
B. मेहरगढ़
C. बुर्जहोम
D. मेहरगढ़
179. आगरा के किस मस्जिद पर बंगाल शैली का प्रभाव माना जाता है?
- A. नगीना मस्जिद
B. मोती मस्जिद
C. जामा मस्जिद
D. बादशाही मस्जिद
- Ans. A
180. सूर्य की बढ़ती दूरी के अनुसार ग्रहों का निम्नलिखित में से कौन-सा क्रम सही है?
- A. बुध, शुक्र, पृथ्वी, मंगल
B. बुध, पृथ्वी, मंगल, शुक्र
C. बुध, मंगल, पृथ्वी, शुक्र
D. बुध, मंगल, शुक्र, पृथ्वी
- Ans. A
181. भारत के कितने राज्यों में समुद्र तट है?
- A. 7 B. 8
C. 9 D. 10

- Ans. C
82. अमीर खुसरो किसके शिष्य थे?
- A. मिर्जा ग्यास्बेग
B. निजामुद्दीन औलिया
C. असदुल्ला बेग
D. शेख सलीम चिश्ती
- Ans. B
183. जापान की सहायता से संचलित मुंबई-अहमदाबाद बुलेट ट्रेन परियोजना को पूरा करने के किये किस वर्ष का लक्ष्य निर्धारित किया गया है?
- A. 2022 B. 2023
C. 2024 D. 2025
- Ans. B
184. कृष्णा सोबती 53वें जानपीठ पुरस्कार की प्राप्तकर्ता है। निम्नलिखित में से कौन-सी पुस्तक उनके द्वारा नहीं लिखी गई है?
- A. डर से बिछड़ी
B. मित्रो मरजानी
C. जिंदगीनामा
D. विश्व मिथक सरित सागर
- Ans. D
185. निम्नलिखित में से किस देश की सीमा चीन से नहीं लगती?
- A. कम्बोडिया
B. लाओस
C. वियतनाम
D. म्यांमार
- Ans. A
186. रेयान निम्न में से किस्से प्राप्त किया जाता है?
- A. रेशम
B. काष्ठ लुग्दी
C. ऊन
D. कपास
- Ans. B
187. निम्नलिखित में से किसको पीट कर पतली चादर में परिवर्तित किया जा सकता है?
- A. जस्ता
B. फास्फोरस
C. सल्फर
D. ऑक्सीजन
- Ans. A
188. भारत के प्रधानमंत्री निम्नलिखित में से किन निकायों के वस्तुतः मुखिया होते हैं?
- I. निति आयोग

- II. राष्ट्रीय एकता परिषद
III. भारतीय वन्य जीव बोर्ड
- A. केवल I
B. केवल II
C. II तथा III दोनों
D. I,II तथा III सभी
- Ans. D
189. नगर प्रशासन का कौन सा प्रकार बड़े शहरी क्षेत्रों का नियंत्रण करता है?
- A. नगर पंचायत
B. नगरपालिका परिषद
C. नगर निगम
D. कोई विकल्प सही नहीं है
- Ans. C
190. निम्नलिखित में से कौन सी प्रकाश संश्लेषण प्रक्रम के दौरान एक घटना नहीं है?
- A. पर्णरहित (क्लोरोफिल) द्वारा प्रकाश ऊर्जा का अवशोषण
B. प्रकाश ऊर्जा को रासायनिक ऊर्जा में रूपांतरण
C. जल अणुओं का हाइड्रोजन तथा ऑक्सीजन में अपघटन
D. कार्बन डाइऑक्साइड का कार्बोहाइड्रेट में ओक्सीकरण
- Ans. D
191. सबसे छोटी वाहिकाएं जो एक कशिकीय मोटी होती है, _____ कहलाती हैं।
- A. महाशिरा
B. धमनियाँ
C. शिराएँ
D. कोशिकाएँ.
- Ans. D
192. सितम्बर 2017 में, 'प्रधानमंत्री एलपीजी पंचयत योजना' का लोकार्पण किसने किया?
- A. नरेन्द्र मोदी
B. धर्मेन्द्र प्रधान
C. पीयूष गोयल
D. आर.के.सिंह
- Ans. A
193. चीन के वैज्ञानिकों द्वारा क्लोन किये गये दो अभिन्न लम्बी-पूँछ वाले मकैकों के नाम क्या हैं?
- A. लॉन्ग होन्ग तथा झुआ झुआ
B. झोन्ग-झोन्ग तथा हुआ हुआ
C. तैलॉग अंड शनुआ
D.

- Ans. B
194. भारत वित्तीय वर्ष 2016-17 के लिए राजकोषीय घाटा लक्ष्य हासिल करने में सफल रहा। वह जीडीपी का कितना प्रतिशत था?
- A. 3.50%
B. 4.20%
C. 3.00%
D. 2.50%
- Ans. A
195. 10 अप्रैल 2017 को, लोकसभा ने मोटर वाहन अधिनियम (संशोधन) विधेयक, 2016 पास किया। नये प्रावधानों के अंतर्गत मृत्यु के लिए मुआवजा 25,000 रु से बढ़ाकर _____ हो गया
- A. 2 लाख रु अथवा अधिक
B. 5 लाख रु अथवा अधिक
C. 10 लाख रु अथवा अधिक
D. 15 लाख रु अथवा अधिक
- Ans. A
196. यदि 500 कूलम्ब का आदेश 25 सेकंड के लिए प्रवाहित होता है तो धरा की गणना (A में) करें।
- A. 12500
B. 20
C. 40
D. 6250
- Ans. A
197. किसी वस्तु की _____ गति के दौरान समय के साथ इसका वेग नियत रहता है।
- A. सरल रेखीय
B. सापेक्ष
C. एकसमान
D. समय
- Ans. C
198. उष्णकटिबंधीय क्षेत्रों की जलवायु सामान्यतः गर्म होती है क्योंकि ये _____ क्षेत्र के आसपास स्थित होते हैं।
- A. ध्रुव
B. दक्षिणी गोलार्ध
C. अधिक ऊँचाई
D. भूमध्यरेखा
- Ans. D
199. निम्नलिखित में से कौन सा कथन सत्य है?
- A) सयुक्त अरब अमीरात ने बेडमिनटन 2017 बीडब्ल्यूएफ वर्ल्ड सीनियर चैंपियनशिप की मेजबानी की।
B) जोहन्ना कौंटा ने टेनिस 2017 मियामी ओपन विमेंस सिंगल्स जीता।

C) ग्रिगोर दिमित्रोव ने टेनिस 2017 यूएस ओपन मेन्स सिंगल्स जीता।

- A. केवल A
- B. केवल B
- C. केवल C
- D. A, B तथा C

Ans. B

200. माइक्रोसॉफ्ट वर्ड में, करैक्टर फॉर्मटिंग के अंतर्गत ___ का उपयोग संप्रतीकों को रंगने के लिए किया जाता है।

- A. फॉण्ट शैली
- B. फॉण्ट रंग
- C. प्रभाव
- D. आकार

Ans. B



Latest Sarkari jobs, Govt Exam alerts, Results and Vacancies

- ▶ Latest News and Notification
- ▶ Exam Paper Analysis
- ▶ Topic-wise weightage
- ▶ Previous Year Papers with Answer Key
- ▶ Preparation Strategy & Subject-wise Books

To know more [Click Here](#)



www.prepp.in