



Practice, Learn and Achieve
Your Goal with Prepp

SSC CHSL Exam

Tier I Previous Paper

Simplifying
Government Exams



SSC CHSL



IAS EXAM



RRB NTPC



NTSE



CDS



SSC CGL



CBSE UGC NET



IBPS PO



NDA



SBI PO



IBPS CLERK



AFCAT



SSC JE



CTET



CSIR UGC NET



CAPF



IBPS RRB

www.prepp.in



Staff Selection Commission
(Government Of India)

REGISTRATION NUMBER : www.superpathshala.com

EXAM DATE : 11-March-2018

EXAM NAME : SSC Examination

TOTAL MARKS : 200

CANDIDATE NAME : www.superpathshala.com

EXAM START TIME : 13:30:00

EXAM DURATION : 01:00 Hrs

TOTAL NO OF QUESTIONS : 100

QID : 201 - In the following question, some part of the sentence may have errors. Find out which part of the sentence has an error and select the appropriate option. If a sentence is free from error, select 'No Error'.

I have give (1)/ you my (2)/ ring last week. (3)/ No error (4)

Options:

- 1) 1
- 2) 2
- 3) 3
- 4) 4

Correct Answer: 1

Candidate Answer: 1

QID : 202 - In the following question, some part of the sentence may have errors. Find out which part of the sentence has an error and select the appropriate option. If a sentence is free from error, select 'No Error'.

He is merely the personification of 'the good, the bad, and the ugly' of (1)/ news channels or perhaps the manifestation in (2)/ television news at its best. (3)/ No error (4)

Options:

- 1) 1
- 2) 2
- 3) 3
- 4) 4

Correct Answer: 2

Candidate Answer: [NOT ANSWERED]

QID : 203 - In the following question, the sentence given with blank to be filled in with an appropriate word. Select the correct alternative out of the four and indicate it by selecting the appropriate option.

The parting was painful for _____.

Options:

- 1) two
- 2) second
- 3) both
- 4) it

Correct Answer: both

Candidate Answer: [NOT ANSWERED]

QID : 204 - In the following question, the sentence given with blank to be filled in with an appropriate word. Select the correct alternative out of the four and indicate it by selecting the appropriate option.

The mind is a tool to achieve _____ levels of consciousness, wisdom and bliss.

Options:

- 1) higher
- 2) digonal
- 3) vertical
- 4) horizontal

Correct Answer: higher

Candidate Answer: [NOT ANSWERED]

QID : 205 - In the following question, out of the given four alternatives, select the one which best expresses the meaning of the given word.

Incessantly

Options:

- 1) Ceasing
- 2) Irregularly
- 3) Steadily
- 4) Unevenly

Correct Answer: Steadily

Candidate Answer: Steadily

QID : 206 - In the following question, out of the given four alternatives, select the one which best expresses the meaning of the given word.

Ruse

Options:

- 1) Rules
- 2) Fuel
- 3) Trick
- 4) Exchange

Correct Answer: Trick

Candidate Answer: [NOT ANSWERED]

QID : 207 - In the following question, out of the given four alternatives, select the one which is opposite in meaning of the given word.

Incorrigible

Options:

- 1) Hopeless
- 2) Incurable
- 3) Reformable
- 4) Loser

Correct Answer: Reformable

Candidate Answer: [NOT ANSWERED]

QID : 208 - In the following question, out of the given four alternatives, select the one which is opposite in meaning of the given word.

Eventual

Options:

- 1) Future
- 2) Last
- 3) Overall
- 4) Initial

Correct Answer: Initial

Candidate Answer: Initial

QID : 209 - Rearrange the parts of the sentence in correct order.

Disadvantage of wired telephone

P : due to the line breakage

Q : connection is the loss

R : of connectivity during disasters

Options:

- 1) QRP
- 2) QPR
- 3) RQP
- 4) PQR

Correct Answer: QRP

Candidate Answer: RQP

QID : 210 - A sentence has been given in Active/Passive Voice. Out of the four given alternatives, select the one which best expresses the same sentence in Passive/Active Voice.

Tanya will bring the snake.

Options:

- 1) The snake will be bring by Tanya.
- 2) Tanya will be bringing the snake.
- 3) The snake will be brought by Tanya.
- 4) The snake brought by Tanya.

Correct Answer: The snake will be brought by Tanya.

Candidate Answer: The snake will be brought by Tanya.

QID : 211 - A sentence has been given in Direct/Indirect Speech. Out of the four given alternatives, select the one which best expresses the same sentence in Indirect/Direct Speech.

The beggar exclaimed, "will none of you help me?"

Options:

- 1) The beggar asked to help him.
- 2) The beggar exclaimed whether none of them would help him.
- 3) The beggar exclaimed would none of them helped him.
- 4) The beggar exclaimed whether they would help him.

Correct Answer: The beggar exclaimed whether none of them would help him.

Candidate Answer: The beggar exclaimed whether none of them would help him.

QID : 212 - In the following question, a word has been written in four different ways out of which only one is correctly spelt. Select the correctly spelt word.

Options:

- 1) Expernce
- 2) Experience
- 3) Expeireince
- 4) Expereince

Correct Answer: Experience

Candidate Answer: Experience

QID : 213 - In the following passage, some of the words have been left out. Read the passage carefully and select the correct answer for the given blank out of the four alternatives.

We get sleepy and wake up, become hungry and thirsty at certain hours, _____ force of habit. We form the habit of liking a certain chair, or nook, or corner, or path, or desk, and _____ seek this to the exclusion of all others. We _____ use a particular pitch of voice and type of enunciation in speaking, and this becomes one of our characteristic marks; or we _____ the habit of using barbarisms or solecisms of language in _____, and these cling to us and become an inseparable part of us later in life.

at certain hours, _____ force of habit.

Options:

- 1) tough
- 2) thought
- 3) though
- 4) through

Correct Answer: through

Candidate Answer: [NOT ANSWERED]

QID : 214 - In the following passage, some of the words have been left out. Read the passage carefully and select the correct answer for the given blank out of the four alternatives.

We get sleepy and wake up, become hungry and thirsty at certain hours, _____ force of habit. We form the habit of liking a certain chair, or nook, or corner, or path, or desk, and _____ seek this to the exclusion of all others. We _____ use a particular pitch of voice and type of enunciation in speaking, and this becomes one of our characteristic marks; or we _____ the habit of using barbarisms or solecisms of language in _____, and these cling to us and become an inseparable part of us later in life.

desk, and _____ seek this to the exclusion

Options:

- 1) than
- 2) there
- 3) then
- 4) that

Correct Answer: then

Candidate Answer: there

QID : 215 - In the following passage, some of the words have been left out. Read the passage carefully and select the correct answer for the given blank out of the four alternatives.

We get sleepy and wake up, become hungry and thirsty at certain hours, _____ force of habit. We form the habit of liking a certain chair, or nook, or corner, or path, or desk, and _____ seek this to the exclusion of all others. We _____ use a particular pitch of voice and type of enunciation in speaking, and this becomes one of our characteristic marks; or we _____ the habit of using barbarisms or solecisms of language in _____, and these cling to us and become an inseparable part of us later in life.

We _____ use a particular pitch of voice

Options:

- 1) habit
- 2) habits
- 3) habitual
- 4) habitually

Correct Answer: habitually

Candidate Answer: habitual

QID : 216 - In the following passage, some of the words have been left out. Read the passage carefully and select the correct answer for the given blank out of the four alternatives.

We get sleepy and wake up, become hungry and thirsty at certain hours, _____ force of habit. We form the habit of liking a certain chair, or nook, or corner, or path, or desk, and _____ seek this to the exclusion of all others. We _____ use a particular pitch of voice and type of enunciation in speaking, and this becomes one of our characteristic marks; or we _____ the habit of using barbarisms or solecisms of language in _____, and these cling to us and become an inseparable part of us later in life.

marks; or we _____ the habit of using

Options:

- 1) from
- 2) form
- 3) for
- 4) of

Correct Answer: form

Candidate Answer: for

QID : 217 - In the following passage, some of the words have been left out. Read the passage carefully and select the correct answer for the given blank out of the four alternatives.

We get sleepy and wake up, become hungry and thirsty at certain hours, _____ force of habit. We form the habit of liking a certain chair, or nook, or corner, or path, or desk, and _____ seek this to the exclusion of all others. We _____ use a particular pitch of voice and type of enunciation in speaking, and this becomes one of our characteristic marks; or we _____ the habit of using barbarisms or solecisms of language in _____, and these cling to us and become an inseparable part of us later in life.

language in _____, and t

Options:

- 1) young
- 2) younger
- 3) youths
- 4) youth

Correct Answer: youth

Candidate Answer: [NOT ANSWERED]

QID : 218 - In the following question, out of the four alternatives, select the alternative which best expresses the meaning of the idiom/phrase.

By courtesy of

Options:

- 1) Be very polite.
- 2) Do a philanthropic act forcefully.
- 3) Be brave and face risks for the team.
- 4) Given or allowed by.

Correct Answer: Given or allowed by.

Candidate Answer: [NOT ANSWERED]

QID : 219 - In the following question, out of the four alternatives, select the alternative which best expresses the meaning of the idiom/phrase.

In the same boat

Options:

- 1) When the option that you have is equally bad as the situation you are in.
- 2) Life like the river throws the same challenges for all boats.
- 3) Be in the same difficult circumstances as others.
- 4) Big and small boats suffer the same fate in a storm.

Correct Answer: Be in the same difficult circumstances as others.

Candidate Answer: When the option that you have is equally bad as the situation you are in.

QID : 220 - In the following question, out of the four alternatives, select the alternative which is the best substitute of the words/sentence.

Critical explanation or interpretation of a text, especially of scripture

Options:

- 1) Oblivion
- 2) Nascence
- 3) Exegesis
- 4) Naivete

Correct Answer: Exegesis

Candidate Answer: [NOT ANSWERED]

QID : 221 - In the following question, out of the four alternatives, select the alternative which is the best substitute of the words/sentence.

Destruction or slaughter on a mass scale

Options:

- 1) Enshrine
- 2) Cenotaph
- 3) Opulent
- 4) Holocaust

Correct Answer: Holocaust

Candidate Answer: [NOT ANSWERED]

QID : 222 - In the following question, out of the four alternatives, select the alternative which will improve the bracketed part of the sentence. In case no improvement is needed, select "no improvement".

That year too, 'Photographers' (**was listed**) separately in the Trade List of The Madras Almanac.

Options:

- 1) is listed
- 2) were listing
- 3) were listed
- 4) no improvement

Correct Answer: were listed

Candidate Answer: were listed

QID : 223 - In the following question, out of the four alternatives, select the alternative which will improve the bracketed part of the sentence. In case no improvement is needed, select "no improvement".

But we expect them (**to performs**) better than all others.

Options:

- 1) to performing
- 2) perform
- 3) to perform
- 4) no improvement

Correct Answer: to perform

Candidate Answer: to perform

QID : 224 - The question below consists of a set of labelled sentences. Out of the four options given, select the most logical order of the sentences to form a coherent paragraph.

Next to the Punjabi

- A-clad in beautiful sarees
- B-family was a group from Chennai in
- C-which all the women were

Options:

- 1) BAC
- 2) ACB
- 3) BCA
- 4) ABC

Correct Answer: BCA

Candidate Answer: BCA

QID : 225 - In the following question, four words are given out of which one word is correctly spelt. Select the correctly spelt word.

Options:

- 1) meritocretic
- 2) meritocratik
- 3) meritocretik
- 4) meritocratic

Correct Answer: meritocratic

Candidate Answer: meritocratik

QID : 226 - In the following question, select the related word pair from the given alternatives.

Tie : Neck :: ? : ?

निम्नलिखित प्रश्न में दिए गए विकल्पों में से संबंधित शब्द युग्म को चुनिए।

टाई : गर्दन :: ? : ?

Options:

- 1) Hat : Head
- टोपी : सिर
- 2) Shoes : Socks
- जूते : मोड़े
- 3) Laces : Cotton
- फीते : कपास
- 4) Shirt : Legs
- कमीज़ : पैर

Correct Answer: Hat : Head

टोपी : सिर

Candidate Answer: Hat : Head

टोपी : सिर

QID : 227 - In the following question, select the related number from the given alternatives.

15 : 22 :: 19 : ?

निम्नलिखित प्रश्न में दिए गए विकल्पों में से संबंधित संख्या को चुनिए।

15 : 22 :: 19 : ?

Options:

- 1) 24
- 2) 20
- 3) 26
- 4) 22

Correct Answer: 26

Candidate Answer: 26

QID : 228 - In the following question, select the related letter/letters from the given alternatives.

BCE : IJL :: CDF : ?

निम्नलिखित प्रश्न में दिए गए विकल्पों में से संबंधित अक्षर/अक्षरों को चुनिए।

BCE : IJL :: CDF : ?

Options:

- 1) KLN
- 2) JKM
- 3) JLN
- 4) KMN

Correct Answer: JKM

Candidate Answer: JKM

QID : 229 - In the following question, select the odd word pair from the given alternatives.

निम्नलिखित प्रश्न में दिए गए विकल्पों में से विषम शब्द युग्म को चुनिए।

Options:

1) Red – Stop

लाल – रुकना

2) Green – Go

हरा – जाना

3) Pink – Red

गुलाबी – लाल

4) Yellow – Wait

पीला – प्रतीक्षा

Correct Answer: Pink – Red

गुलाबी – लाल

Candidate Answer: Pink – Red

गुलाबी – लाल

QID : 230 - In the following question, four number pairs are given. The number on left side of (–) is related to the number on the right side of (–) with some Logic/Rule/Relation. Three are similar on basis of same Logic/Rule/Relation. Select the odd one out from the given alternatives.

नीचे दिए गए प्रश्न में, चार संख्या युग्म दिए गए हैं। (–) के बायीं ओर दी संख्या (–) के दायीं ओर दी गई संख्या से तर्क/नियम से सम्बंधित है। तीन उसी एक तर्क/नियम के आधार पर समान हैं। दिए गए विकल्पों में से भिन्न को चुनिए।

Options:

1) 19 – 57

2) 13 – 39

3) 23 – 69

4) 17 – 53

Correct Answer: 17 – 53

Candidate Answer: 17 – 53

QID : 231 - In the following question, select the odd letter/letters from the given alternatives.

निम्नलिखित प्रश्न में दिए गए विकल्पों में से विषम अक्षर/अक्षरों को चुनिए।

Options:

1) RSUW

2) CDFI

3) KLNQ

4) STVY

Correct Answer: RSUW

Candidate Answer: RSUW

QID : 232 - Arrange the given words in the sequence in which they occur in the dictionary.

1. Philosopher

2. Pharmacy

3. Piercing

4. Salesman

5. Saleswoman

निम्नलिखित शब्दों को शब्दकोश में आने वाले क्रम के अनुसार लिखें।

1. Philosopher

2. Pharmacy

3. Piercing

4. Salesman

5. Saleswoman

Options:

1) 21345

2) 53214

3) 34215

4) 24513

Correct Answer: 21345

Candidate Answer: 21345

QID : 233 - In the following question, select the missing number from the given series.

14, 17, 21, 24, 28, 31, ?

निम्नलिखित प्रश्न में दिए गए विकल्पों में से लुप्त अंक ज्ञात कीजिए।

14, 17, 21, 24, 28, 31, ?

Options:

1) 32

2) 33

3) 35

4) 34

Correct Answer: 35

Candidate Answer: 35

QID : 234 - A series is given with one term missing. Select the correct alternative from the given ones that will complete the series.

H, K, N, ?, T, W, ?

एक अनुक्रम दिया गया है, जिसमें से एक पद लुप्त है। दिए गए विकल्पों में से वह सही विकल्प चुनिए, जो अनुक्रम को पूरा करे।

H, K, N, ?, T, W, ?

Options:

- 1) R, Y
- 2) Q, Z
- 3) R, Z
- 4) S, X

Correct Answer: Q, Z

Candidate Answer: Q, Z

QID : 235 - Six batteries are kept one above the other. Jumbo is just above Pick. The Volt is between Tank and Ping. Lift is between Jumbo and Tank. Which battery is at second position from the bottom?

छह बैटरियों को एक के ऊपर एक रखा गया है। जम्बो, पिक के ठीक ऊपर है। वॉल्ट, टैंक तथा पिंग के मध्य है। लिफ्ट, जम्बो तथा टैंक के मध्य है। कौन सी बैटरी नीचे से दूसरे स्थान पर है?

Options:

- 1) Pick
पिक
- 2) Tank
टैंक
- 3) Volt
वॉल्ट
- 4) Jumbo
जम्बो

Correct Answer: Jumbo

जम्बो

Candidate Answer: Volt

वॉल्ट

QID : 236 - From the given alternatives, select the word which **CANNOT** be formed using the letters of the given word.

Grandmother

दिए गए विकल्पों में से वह शब्द चुनिए जो दिए गए शब्द के अक्षरों का प्रयोग करके नहीं बनाया जा सकता है।

Grandmother

Options:

- 1) Read
- 2) Other
- 3) Author
- 4) Reed

Correct Answer: Author

Candidate Answer: Author

QID : 237 - In a certain code language, "MAGNET" is written as "WHQJDP". How is "FRAUDS" written in that code language?

एक विशिष्ट कोड भाषा में, "MAGNET" को "WHQJDP" लिखा जाता है। इस कोड भाषा में "FRAUDS" को किस प्रकार लिखा जाएगा?

Options:

- 1) FXRVMK
- 2) VGXDUI
- 3) XDUIGT
- 4) TMKRDU

Correct Answer: VGXDUI

Candidate Answer: [NOT ANSWERED]

QID : 238 - In a certain code language, '÷' represents '+', '-' represents 'x', '+' represents '÷' and 'x' represents '-'. Find out the answer to the following question.

18 + 2 x 30 ÷ 6 - 4 = ?

किसी निश्चित कोड भाषा में '÷', '+' को प्रदर्शित करता है, '-', 'x' को प्रदर्शित करता है, '+' को प्रदर्शित करता है और 'x', '-' को प्रदर्शित करता है। निम्नलिखित प्रश्न का उत्तर ज्ञात करें।

18 + 2 x 30 ÷ 6 - 4 = ?

Options:

- 1) 46
- 2) 3
- 3) 36
- 4) 7

Correct Answer: 3

Candidate Answer: 3

QID : 239 - The following equation is incorrect. Which two signs should be interchanged to correct the equation?

$$30 \div 2 - 10 \times 6 + 5 = 35$$

निम्नलिखित समीकरण गलत है। इस समीकरण को सही करने के लिए किन दो चिन्हों को आपस में अदला-बदली करना चाहिए?

$$30 \div 2 - 10 \times 6 + 5 = 35$$

Options:

1) + and \div

+ और \div

2) - and +

- और +

3) \div and \times

\div और \times

4) + and \times

+ और \times

Correct Answer: + and \times

+ और \times

Candidate Answer: + and \times

+ और \times

QID : 240 - If $3\#5 = -20$, $1\#4 = -30$ and $6\#5 = 10$, then find the value of $4\#9 = ?$

यदि $3\#5 = -20$, $1\#4 = -30$ और $6\#5 = 10$, तो $4\#9 = ?$ का मान ज्ञात करें।

Options:

1) 70

2) -60

3) -50

4) -70

Correct Answer: -50

Candidate Answer: [NOT ANSWERED]

QID : 241 - Which of the following terms follows the trend of the given list?

ZYXYXYXY, ZWXYXYXY, ZWZYXYXY, ZWZWXYXY, ZWZWZYXY, _____.

निम्नलिखित में से कौन सा पद दी गयी सूची के क्रम के अनुसार है?

ZYXYXYXY, ZWXYXYXY, ZWZYXYXY, ZWZWXYXY, ZWZWZYXY, _____.

Options:

1) XYXYXYXY

2) ZYXYXYXY

3) ZWZWZWXY

4) ZWXYXYXY

Correct Answer: ZWZWZWXY

Candidate Answer: ZWZWZWXY

QID : 242 - A post-man starts cycling from his post office. He cycles 7 km South, then turns West and cycles 5 km, Then turns North and cycles 6 km, then turns to his right and cycles 5 km. Where is he now with reference to his post office?

एक पोस्टमैन अपने डाकघर से साइकिल पर निकलता है। वह साइकिल से दक्षिण की तरफ 7 कि.मी. जाता है, फिर पश्चिम की तरफ मुड़ता है और आगे 5 कि.मी. जाता है, फिर उत्तर की तरफ मुड़ता है और आगे 6 कि.मी. साइकिल चलाता है, फिर वह अपने दाहिने तरफ मुड़ता है और साइकिल से आगे 5 कि.मी. जाता है। अपने डाकघर के संदर्भ में वह अब कहाँ है?

Options:

1) 1 km North

1 कि.मी. उत्तर

2) 2 km North

2 कि.मी. उत्तर

3) 1 km South

1 कि.मी. दक्षिण

4) 2 km South

2 कि.मी. दक्षिण

Correct Answer: 1 km South

1 कि.मी. दक्षिण

Candidate Answer: 1 km South

1 कि.मी. दक्षिण

QID : 243 - In the question two statements are given, followed by two conclusions, I and II. You have to consider the statements to be true even if it seems to be at variance from commonly known facts. You have to decide which of the given conclusions, if any, follows from the given statements.

Statement I: All potatoes are chips

Statement II: All french fries are potatoes

Conclusion I: No chips are french fries

Conclusion II: Some french fries are chips

प्रश्न में दो कथन दिये गये हैं जिसके आगे दो निष्कर्ष I और II निकाले गये हैं। आपको मानना है कि दोनों कथन सत्य हैं चाहे वह सामान्यतः ज्ञात तथ्यों से भिन्न प्रतीत होते हों। आपको निर्णय करना है की दिए गए निष्कर्षों में से कौन-सा/कौन-से निश्चित रूप से कथन द्वारा सही निकाला जा सकता है/सकते हैं, यदि कोई हो।

कथन I: सभी आलू चिप्स होते हैं

कथन II: सभी फ्रेंच फ्राइज़ आलू होते हैं

निष्कर्ष I: कोई भी चिप्स फ्रेंच फ्राइज़ नहीं होते

निष्कर्ष II: कुछ फ्रेंच फ्राइज़ चिप्स होते हैं

Options:

1) Only conclusion I follows

केवल निष्कर्ष I सही है

2) Only conclusion II follows

केवल निष्कर्ष II सही है

3) Both conclusions I and II follow

दोनों निष्कर्ष I और II सही हैं

4) Neither conclusion I nor conclusion II follows

ना तो निष्कर्ष I सही है ना ही निष्कर्ष II

Correct Answer: Only conclusion II follows

केवल निष्कर्ष II सही है

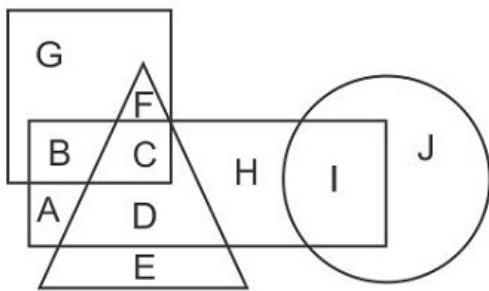
Candidate Answer: Neither conclusion I nor conclusion II follows

ना तो निष्कर्ष I सही है ना ही निष्कर्ष II

QID : 244 -

In the following figure, rectangle represents Reporters, circle represents Lyricists, triangle represents Potters and square represents Europeans. Which set of letters represents Europeans who are not Potters?

निम्नलिखित आकृति में, आयत रिपोर्टर को प्रदर्शित करता है, वृत्त गीतकारों को प्रदर्शित करता है, त्रिभुज पॉटरस को प्रदर्शित करता है और वर्ग यूरोपियों को प्रदर्शित करता है। अक्षरों का कौन सा समूह उन यूरोपियों को प्रदर्शित करता है जो पॉटरस नहीं हैं?



Options:

1) FC

2) GB

3) AD

4) DE

Correct Answer: GB

Candidate Answer: GB

QID : 245 - A series is given with one term missing. Select the correct alternative from the given ones that will complete the series.

API, CRK, ETM, ?, IXQ

एक अनुक्रम दिया गया है, जिसमें से एक पद लुप्त है। दिए गए विकल्पों में से वह सही विकल्प चुनिए, जो अनुक्रम को पूरा करे।

API, CRK, ETM, ?, IXQ

Options:

- 1) HUP
- 2) GVO
- 3) IVP
- 4) IUO

Correct Answer: GVO

Candidate Answer: GVO

QID : 246 - In the following question, select the missing number from the given series.

108, 104, 100, 96, 92, ?

निम्नलिखित प्रश्न में दिए गए विकल्पों में से लुप्त अंक ज्ञात कीजिए।

108, 104, 100, 96, 92, ?

Options:

- 1) 88
- 2) 84
- 3) 90
- 4) 86

Correct Answer: 88

Candidate Answer: 88

QID : 247 - In the following question, four groups of three numbers are given. In each group the second and third number are related to the first number by a Logic/Rule/Relation. Three are similar on basis of same Logic/Rule/Relation. Select the odd one out from the given alternatives.

नीचे दिए गए प्रश्न में, तीन संख्याओं के चार समूह दिए गए हैं। प्रत्येक समूह में दूसरी तथा तीसरी संख्या पहली संख्या से किसी एक तर्क/नियम से सम्बंधित है। तीन उसी एक तर्क/नियम के आधार पर समान हैं। दिए गए विकल्पों में से भिन्न को चुनिए।

Options:

- 1) (14, 29, 43)
- 2) (15, 31, 46)
- 3) (18, 37, 52)
- 4) (13, 27, 40)

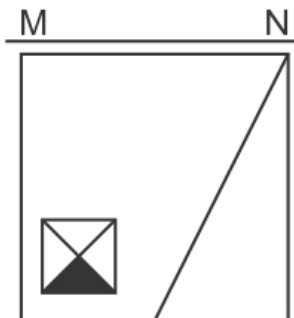
Correct Answer: (18, 37, 52)

Candidate Answer: (18, 37, 52)

QID : 248 -

If a mirror is placed on the line MN, then which of the answer figures is the right image of the given figure?

यदि एक दर्पण को MN रेखा पर रखा जाए तो दी गयी उत्तर आकृतियों में से कौन-सी आकृति प्रश्न आकृति का सही प्रतिबिम्ब होगी?



Options:

1)



2)



3)



4)



Correct Answer:

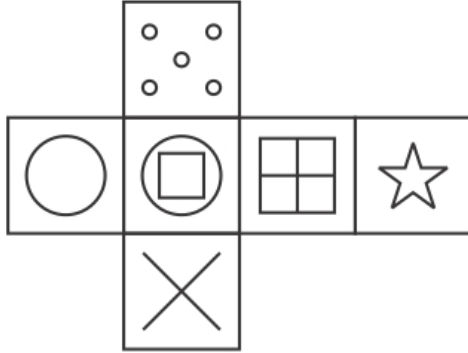


Candidate Answer:



Which of the following cube in the answer figure cannot be made based on the unfolded cube in the question figure?

निम्नलिखित उत्तर आकृति में से कौन सा घन दिए गए प्रश्न आकृति में से खुले घन से बनाया नहीं जा सकता?



Options:

1)



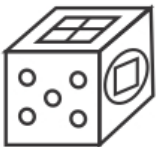
2)



3)



4)



Correct Answer:



Candidate Answer:



QID : 250 -

A word is represented by only one set of numbers as given in any one of the alternatives. The sets of numbers given in the alternatives are represented by two classes of alphabets as shown in the given two matrices. The columns and rows of Matrix-I are numbered from 0 to 4 and that of Matrix-II are numbered from 5 to 9. A letter from these matrices can be represented first by its row and next by its column, for example 'B' can be represented by 13, 41 etc and 'R' can be represented by 58, 59 etc. Similarly, you have to identify the set for the word 'SWAM'.

एक शब्द केवल एक संख्या-समूह द्वारा दर्शाया गया है, जैसा कि विकल्पों में से किसी एक में दिया गया है। विकल्पों में दिए गए संख्या-समूह अक्षरों के दो वर्गों द्वारा दर्शाए गए हैं, जैसा कि दिए गए दो आव्यूहों में है। आव्यूह-I के स्तम्भ और पंक्ति की संख्या 0 से 4 और आव्यूह-II की 5 से 9 है। इन आव्यूहों से एक अक्षर को पहले उसकी पंक्ति और बाद में स्तम्भ संख्या द्वारा दर्शाया जा सकता है। उदाहरण के लिए 'B' को 13, 41 आदि द्वारा दर्शाया जा सकता है तथा 'R' को 58, 59 आदि द्वारा दर्शाया जा सकता है। इसी तरह से आपको प्रश्न में दिए शब्द 'SWAM' के लिए समूह को पहचानना है।

Matrix I आव्यूह - I					
	0	1	2	3	4
0	A	L	J	F	B
1	L	F	M	B	J
2	J	I	D	G	F
3	A	F	A	G	J
4	B	B	M	I	F

Matrix II आव्यूह - II					
	5	6	7	8	9
5	Y	T	O	R	R
6	U	Z	Z	P	O
7	V	Y	O	O	N
8	N	S	P	O	T
9	Z	Z	W	U	O

Options:

1) 14,75,40,98

2) 86,97,32,12

3) 31,96,11,77

4) 24,65,13,95

Correct Answer: 86,97,32,12**Candidate Answer:** 86,97,32,12**QID : 251 -**

Find the remainder in the expression $\frac{550 \times 651 \times 662}{7}$.

अभिव्यक्ति $\frac{550 \times 651 \times 662}{7}$ का शेष ज्ञात करें।

Options:

1) 5

2) 4

3) 0

4) 3

Correct Answer: 0**Candidate Answer:** 0**QID : 252 -**

Simplify $(11.998)^3 = ?$

सरल कीजिये $(11.998)^3 = ?$

Options:

1) 1727.136

2) 1331.136

3) 1685.136

4) 1700.136

Correct Answer: 1727.136**Candidate Answer:** 1727.136

QID : 253 -

Find the value of $\left(\frac{\sqrt[4]{6}}{\sqrt[4]{3}}\right)^4$.

$\left(\frac{\sqrt[4]{6}}{\sqrt[4]{3}}\right)^4$ का मान ज्ञात करें।

Options:

1) 1

2) 2

3) 3

4) 4

Correct Answer: 2

Candidate Answer: [NOT ANSWERED]

QID : 254 -

Determine the value of $(a+1)^{b-1}$ when $a^b = 343$.

$(a+1)^{b-1}$ का मान ज्ञात करें जब $a^b = 343$ है।

Options:

1) 9

2) 64

3) 125

4) 216

Correct Answer: 64

Candidate Answer: [NOT ANSWERED]

QID : 255 -

In the two triangles ABC and DEF the sides AB=DE and BC=EF. Which of the following option is correct which results in the $\triangle ABC \cong \triangle DEF$?

दो त्रिभुज ABC और DEF में भुजा AB=DE और BC=EF है। निम्न में से कौन सा विकल्प सही है जिसके परिणामस्वरूप $\triangle ABC \cong \triangle DEF$ होगा?

Options:

1)

$\angle ACB = \angle EDF$

2)

$\angle BAC = \angle EDF$

3)

$\angle ACB = \angle DFE$

4)

$\angle ABC = \angle DEF$

Correct Answer:

$\angle ABC = \angle DEF$

Candidate Answer: [NOT ANSWERED]

QID : 256 - The triangle ABC and DEF are similar to each other. The measure of the angle A and E is 67 and 83 degree respectively. What is the value of angle C?

त्रिभुज ABC और DEF एक-दूसरे के समान हैं। A और E कोण क्रमशः 67 और 83 डिग्री हैं। कोण C का मान क्या है?

Options:

1) 20°

2) 30°

3) 40°

4) 50°

Correct Answer: 30°

Candidate Answer: 40°

QID : 257 - If R = 97 and S = 155.2, then S is how much percentage more than R?

यदि R = 97 तथा S = 155.2 है, तो S, R से कितना प्रतिशत अधिक है?

Options:

- 1) 60
- 2) 37.5
- 3) 58.2
- 4) 48

Correct Answer: 60

Candidate Answer: 60

QID : 258 - The ratio of two numbers is 5 : 6. If their product is 1470, then what is the sum of both the numbers?

दो संख्याओं का अनुपात 5 : 6 है। यदि उनका गुणनफल 1470 है, तो दोनों संख्याओं का योग क्या है?

Options:

- 1) 210
- 2) 77
- 3) 132
- 4) 98

Correct Answer: 77

Candidate Answer: [NOT ANSWERED]

QID : 259 - U starts a business by investing Rs 45000 and V join him after one year with an amount of Rs 33000. After two years from the starting of business, they earned a profit of Rs 16400. What will be the U's share (in Rs) in the profit?

U 45000 रु निवेश करके एक व्यापार शुरू करता है तथा एक वर्ष पश्चात V, 33000 रु की राशि के साथ उससे जुड़ जाता है। व्यापार के प्रारंभ होने के दो वर्ष पश्चात उन्हें 16400 रु का लाभ प्राप्त हुआ। लाभ में U का हिस्सा (रु में) क्या होगा?

Options:

- 1) 11200
- 2) 9600
- 3) 10000
- 4) 12000

Correct Answer: 12000

Candidate Answer: [NOT ANSWERED]

QID : 260 - A man buys 7 shirts at Rs 300 each, 2 trousers at Rs 450 each and 1 pair of shoes at Rs 500 each. What is the average expenditure (in Rs) per article?

एक पुरुष 300 रु प्रति की दर से 7 कमीज़, 450 रु प्रति की दर से 2 पतलून तथा 500 रु प्रति की दर से 1 जोड़ी जूता खरीदता है। प्रति वस्तु औसत व्यय (रु में) क्या है?

Options:

- 1) 210
- 2) 250
- 3) 320
- 4) 350

Correct Answer: 350

Candidate Answer: 350

QID : 261 - Compound interest on a certain sum for 2 years at the rate of 11% per annum is Rs 1160.5. What will be the simple interest (in Rs) for the same amount at the same rate of interest for 2 years?

एक निश्चित राशि पर 11% की वार्षिक दर से 2 वर्षों का चक्रवृद्धि ब्याज 1160.5 रु है। समान राशि पर समान ब्याज दर से 2 वर्षों का साधारण ब्याज (रु में) क्या होगा?

Options:

- 1) 9000
- 2) 1000
- 3) 1100
- 4) 1050

Correct Answer: 1100

Candidate Answer: 1050

QID : 262 - Two shirts are bought at the rate of Rs 400 each. Shopkeeper sells one at the profit of 150% and other at the loss of 150%. What will be the total profit or loss in the whole transaction?

दो कमीज़ 400 रु प्रति की दर से खरीदी गई हैं। दुकानदार पहली को 150% के लाभ पर तथा दूसरी को 150% की हानि पर बेचता है। पूरे लेनदेन में कुल लाभ अथवा हानि क्या होगी?

Options:

- 1) Loss of Rs 50
50 रु की हानि
- 2) No profit/loss
कोई लाभ/हानि नहीं
- 3) Profit of Rs 25
25 रु का लाभ
- 4) Loss of Rs 150
150 रु की हानि

Correct Answer: No profit/loss

कोई लाभ/हानि नहीं

Candidate Answer: [NOT ANSWERED]

QID : 263 - Deepak marks the price of his table 60% above the cost price. He gives some discount on it and earns profit of 15.2%. What is the discount percentage?

दीपक अपनी मेज़ के मूल्य को क्रय मूल्य से 60% अधिक अंकित करता है। वह उस पर कुछ छूट देता है तथा 15.2% का लाभ कमाता है। छूट प्रतिशत क्या है?

Options:

- 1) 36.4
- 2) 28
- 3) 44.8
- 4) 38.9

Correct Answer: 28

Candidate Answer: [NOT ANSWERED]

QID : 264 -

What is the value of $\sqrt[3]{729} + \sqrt{441} - \sqrt[3]{343}$?

$\sqrt[3]{729} + \sqrt{441} - \sqrt[3]{343}$ का मान क्या है?

Options:

- 1) 48
- 2) 23
- 3) 7
- 4) 41

Correct Answer: 23

Candidate Answer: 23

QID : 265 - Parvesh is three times as efficient as Dinesh. Parvesh takes 20 days less than Dinesh to complete a book. If both of them work together, then in how many days the book will be completed?

प्रवेश, दिनेश से तीन गुना कार्यकुशल है। प्रवेश एक पुस्तक को पूरा करने में दिनेश से 20 दिन कम लेता है। यदि दोनों मिलकर कार्य करते हैं, तो पुस्तक कितने दिन में पूरी हो जाएगी?

Options:

- 1) 7.5
- 2) 8
- 3) 10
- 4) 6.5

Correct Answer: 7.5

Candidate Answer: [NOT ANSWERED]

QID : 266 - If Shubhangi walks with a speed of 2 km/hr, then she reaches her school 5/2 minutes late but if she walks with a speed of 2.5 km/hr, then she reach 5 minutes before the scheduled time. What is the distance (in km) of her school from her house?

यदि शुभांगी 2 कि.मी./घंटा की गति से चलती है तो वह अपने विद्यालय 5/2 मिनट की देरी से पहुँचती है, परंतु यदि वह 2.5 कि.मी./घंटा की गति से चलती है, तो वह निर्धारित समय से 5 मिनट पहले पहुँच जाती है। उसके घर से उसके विद्यालय की दूरी (कि.मी. में) क्या है?

Options:

- 1) 1.025
- 2) 1.125
- 3) 1.25
- 4) 1.5

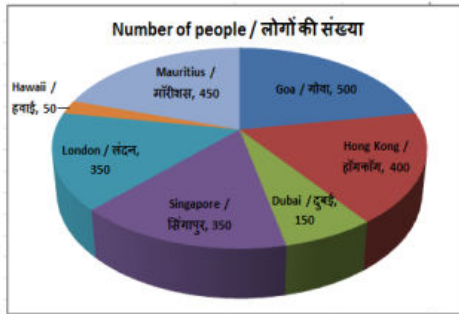
Correct Answer: 1.25

Candidate Answer: [NOT ANSWERED]

QID : 267 -

The pie chart shows the results of an online survey which asked people about their favourite travel destination. Study the diagram and answer the following questions.

यह पाइ चार्ट एक ऑनलाइन सर्वेक्षण के परिणाम दर्शाता है जिसमें लोगों को उनके पसंदीदा यात्रा गंतव्य के बारे में पूछा गया था। इस आरेख का अध्ययन करें और निम्नलिखित प्रश्नों के उत्तर दें।



Which travel destination is the favourite of most people surveyed?

किये गये सर्वेक्षण में अधिकांश लोगों का पसंदीदा गंतव्य स्थान कौन सा है?

Options:

1) Hong Kong

हॉङ्गकॉंग

2) Mauritius

मॉरीशस

3) Singapore

सिंगापुर

4) Goa

गोवा

Correct Answer: Goa

गोवा

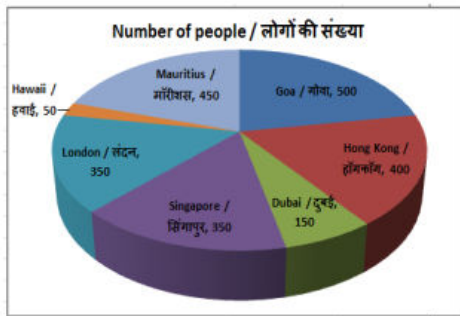
Candidate Answer: Goa

गोवा

QID : 268 -

The pie chart shows the results of an online survey which asked people about their favourite travel destination. Study the diagram and answer the following questions.

यह पाइ चार्ट एक ऑनलाइन सर्वेक्षण के परिणाम दर्शाता है जिसमें लोगों को उनके पसंदीदा यात्रा गंतव्य के बारे में पूछा गया था। इस आरेख का अध्ययन करें और निम्नलिखित प्रश्नों के उत्तर दें।



What is the total number of people who have responded to the survey?

सर्वेक्षण में प्रतिक्रिया देने वाले लोगों की कुल संख्या क्या है?

Options:

- 1) 2150
- 2) 2400
- 3) 2250
- 4) 2100

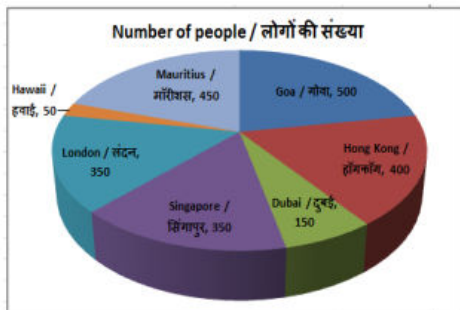
Correct Answer: 2250

Candidate Answer: 2250

QID : 269 -

The pie chart shows the results of an online survey which asked people about their favourite travel destination. Study the diagram and answer the following questions.

यह पाइ चार्ट एक ऑनलाइन सर्वेक्षण के परिणाम दर्शाता है जिसमें लोगों को उनके पसंदीदा यात्रा गंतव्य के बारे में पूछा गया था। इस आरेख का अध्ययन करें और निम्नलिखित प्रश्नों के उत्तर दें।



The measure of the central angle of the sector representing number of people whose favourite travel destination is Hawaii is _____ degrees.

जिनकी पसंदीदा यात्रा गंतव्य हवाई है लोगों की संख्या का प्रतिनिधित्व करने वाले क्षेत्र के केंद्रीय कोण का माप _____ डिग्री है।

Options:

- 1) 10
- 2) 12
- 3) 15
- 4) 8

Correct Answer: 8

Candidate Answer: [NOT ANSWERED]

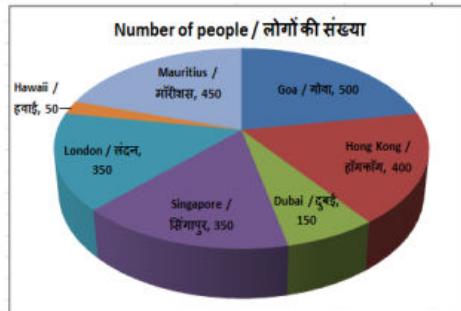
Latest Sarkari Jobs, Govt Exam Results, Vacancies and updates on one click

[Know More](#)

QID : 270 -

The pie chart shows the results of an online survey which asked people about their favourite travel destination. Study the diagram and answer the following questions.

यह पाइ चार्ट एक ऑनलाइन सर्वेक्षण के परिणाम दर्शाता है जिसमें लोगों को उनके पसंदीदा यात्रा गंतव्य के बारे में पूछा गया था। इस आरेख का अध्ययन करें और निम्नलिखित प्रश्नों के उत्तर दें।



Respondents who say their favourite travel destination is Goa and those who say their favourite travel destination is Hong Kong constitute what percent of the total respondents?

जिन उत्तरदाताओं का कहना है कि उनका पसंदीदा यात्रा गंतव्य गोवा है और जिनका पसंदीदा यात्रा गंतव्य हॉङ्गकॉङ है, वे कुल उत्तरदाताओं का कितना प्रतिशत गठित करते हैं?

Options:

- 1) 25%
- 2) 33.33%
- 3) 30%
- 4) 40%

Correct Answer: 40%

Candidate Answer: 40%

QID : 271 - The length of the diagonal and the breadth of a rectangle are 26 cm and 10 cm respectively. Find its perimeter (in cm).

एक आयत के विकर्ण की लंबाई और उसकी चौड़ाई क्रमशः 26 सें.मी. और 10 सें.मी. है। इसकी परिमाप (सें.मी. में) ज्ञात करें।

Options:

- 1) 68
- 2) 136
- 3) 43
- 4) 86

Correct Answer: 68

Candidate Answer: 68

QID : 272 - If the sum of the interior angles of a regular polygon is 1260° , then how many sides does it have?

यदि एक नियमित बहुभुज के आंतरिक कोणों का योग 1260° है तो उसमें कितनी भुजाएं हैं?

Options:

- 1) 10
- 2) 12
- 3) 15
- 4) 9

Correct Answer: 9

Candidate Answer: [NOT ANSWERED]

QID : 273 - Find the volume (in cm^3) of a right circular cylinder of diameter 42 cm and height 14 cm.

42 सें.मी. व्यास और 14 सें.मी. ऊंचाई वाले एक लम्ब वृत्तीय बेलन का आयतन (घन सें.मी. में) ज्ञात करें।

Options:

- 1) 19404
- 2) 18018
- 3) 17321
- 4) 16729

Correct Answer: 19404

Candidate Answer: [NOT ANSWERED]

QID : 274 - $\triangle ABC$ is right angled at B. If $m\angle A = 30^\circ$, then find the value of $(\sin C + 1/3)$.

$\triangle ABC$ में B पर समकोण है। यदि $m\angle A = 30^\circ$, तो $(\sin C + 1/3)$ का मान ज्ञात करें।

Options:

- 1) $4/3$
- 2) $(\sqrt{3}+1)/2$
- 3) $(\sqrt{3}+2)/\sqrt{3}$
- 4) $(3\sqrt{3}+2)/6$

Correct Answer: $(3\sqrt{3}+2)/6$

Candidate Answer: [NOT ANSWERED]

QID : 275 - $\triangle DEF$ is right angled at E. If $\cos D = 5/13$, then what is the value of $\tan F$?

$\triangle DEF$ में E पर समकोण है। यदि $\cos D = 5/13$, तो $\tan F$ का मान क्या है?

Options:

- 1) $5/13$
- 2) $5/12$
- 3) $13/5$
- 4) $13/12$

Correct Answer: $5/12$

Candidate Answer: $5/13$

QID : 276 - What does cyclical unemployment mean?

चक्रीय बेरोजगारी का क्या अर्थ है?

Options:

- 1) Unemployment during recessionary phase of trade cycle
व्यापार चक्र में मंदी के दौरान बेरोजगारी
- 2) Disguised unemployment
प्रच्छन्न बेरोजगारी
- 3) Seasonal unemployment
मौसमी बेरोजगारी
- 4) Voluntary unemployment
स्वैच्छिक बेरोजगारी

Correct Answer: Unemployment during recessionary phase of trade cycle

व्यापार चक्र में मंदी के दौरान बेरोजगारी

Candidate Answer: Unemployment during recessionary phase of trade cycle

व्यापार चक्र में मंदी के दौरान बेरोजगारी

QID : 277 - During which Five Year Planning was NABARD established?

किस पंचवर्षीय योजना के दौरान नाबार्ड की स्थापना हुई थी?

Options:

- 1) Fifth
पांचवां
- 2) Sixth
छठा
- 3) Third
तीसरा
- 4) Ninth
नौवां

Correct Answer: Sixth

छठा

Candidate Answer: Sixth

छठा

QID : 278 - Which of the following rulers started the Mughal style of painting?

चित्रकला की मुगल शैली निम्नलिखित में से किस शासक के समय से शुरू हुई?

Options:

- 1) Babar
बाबर
- 2) Humayun
हुमायूँ
- 3) Akbar
अकबर
- 4) Jahangir
जहांगीर

Correct Answer: Humayun

हुमायूँ

Candidate Answer: Jahangir

जहांगीर

QID : 279 - Which of the following is related to the Tinkathiya Pratha?

तिनकठिया प्रथा का संबंध निम्न में से किस क्षेत्र से है?

Options:

1) Champaran

चंपारण

2) Kheda

खेड़ा

3) Bardoli

बारडोली

4) Darbhanga

दरभंगा

Correct Answer: Champaran

चंपारण

Candidate Answer: [NOT ANSWERED]

QID : 280 - Which of the following pairs is NOT correctly matched?

निम्नलिखित में से कौन-सा युग्म सुमेलित नहीं है?

Options:

1) Silent volcano : Damavand

शान्त ज्वालामुखी : देमवन्द

2) Active volcano : Stromboli

जाग्रत ज्वालामुखी - स्ट्रोम्बोली

3) Dormant Volcano - Krakatau

प्रसुप्त ज्वालामुखी - क्राकाटाओ

4) Extinct volcano - Etna

निष्क्रिय ज्वालामुखी - एटना

Correct Answer: Extinct volcano - Etna

निष्क्रिय ज्वालामुखी - एटना

Candidate Answer: [NOT ANSWERED]

QID : 281 - The mountain situated in the north-west India is: _____.

उत्तर-पश्चिम भारत में स्थित पर्वत है: _____।

Options:

1) Aravali

अरावली

2) Vindhyachal

विन्ध्याचल

3) Hindukush

हिन्दुकुश

4) Satpura

सतपुड़ा

Correct Answer: Aravali

अरावली

Candidate Answer: Aravali

अरावली

QID : 282 - In which of the following areas, Pandit Jasraj has established his reputation?

पंडित जसराज ने निम्नलिखित में से किस क्षेत्र में अपनी प्रतिष्ठा स्थापित की है?

Options:

1) Literature writing

साहित्य लेखन

2) Instrumental playing

वाद्य वादन

3) Classical singing

शास्त्रीय गायन

4) Classical Dance

शास्त्रीय नृत्य

Correct Answer: Classical singing

शास्त्रीय गायन

Candidate Answer: Classical Dance

शास्त्रीय नृत्य

QID : 283 - Which of the following has become the first country in the world to pay equal salary to men and women?

निम्नलिखित में से कौन पुरुषों और महिलाओं का समान वेतन देने वाला विश्व का पहला देश बन गया है?

Options:

- 1) Iceland
आइसलैण्ड
- 2) Denmark
डेनमार्क
- 3) Sweden
स्वीडन
- 4) Russia
रूस

Correct Answer: Iceland
आइसलैण्ड

Candidate Answer: Iceland
आइसलैण्ड

QID : 284 - Which Bollywood actor was honoured with the 24th Crystal Award at the world Economic Forum meeting in January 2018?

किस बॉलीवुड अभिनेता को जनवरी 2018 में विश्व आर्थिक मंच पर 24वें क्रिस्टल अवार्ड से सम्मानित किया गया?

Options:

- 1) Shahrukh Khan
शाहरुख खान
- 2) Aamir Khan
आमिर खान
- 3) Salman Khan
सलमान खान
- 4) Saif Ali Khan
सैफ अली खान

Correct Answer: Shahrukh Khan
शाहरुख खान

Candidate Answer: Salman Khan
सलमान खान

QID : 285 - National Flag of Bangladesh was designed by _____.

बांग्लादेश का राष्ट्रीय ध्वज _____ द्वारा डिजाइन किया गया था।

Options:

- 1) Nandlal Bose
नंदलाल बोस
- 2) Kazi Nazrul Islam
काजी नज़रुल इस्लाम
- 3) Kamrul Hasan
कामरुल हसन
- 4) Ziaur Rahman
ज़ियाउर रहमान

Correct Answer: Kamrul Hasan
कामरुल हसन

Candidate Answer: [NOT ANSWERED]

QID : 286 - Which of the following is **NOT** a nucleon?

निम्नलिखित में से कौन सा एक न्यूक्लिऑन नहीं है?

Options:

- 1) Proton
प्रोटॉन
- 2) Electron
इलेक्ट्रॉन
- 3) Neutron
न्यूट्रॉन
- 4) No option is correct.
कोई विकल्प सही नहीं है।

Correct Answer: Electron
इलेक्ट्रॉन

Candidate Answer: Electron
इलेक्ट्रॉन

QID : 287 - Baking soda is used _____.

- I. for making baking powder
- II. in soda-acid fire extinguishers
- III. to neutralize excess acid in the stomach

बेकिंग सोडा का प्रयोग _____ में होता है।

- I. बेकिंग पाउडर बनाने
- II. सोडा अम्ल अग्निशामक
- III. पेट में अम्ल की अधिकता को उदासीन करने

Options:

1) Only I and II

केवल I तथा II

2) Only I and III

केवल I तथा III

3) Only II and III

केवल II तथा III

4) All I, II and III

I, II तथा III सभी

Correct Answer: All I, II and III

I, II तथा III सभी

Candidate Answer: Only II and III

केवल II तथा III

QID : 288 - What are the minimum qualifications of a person to become a member of Lok Sabha?

- I. Must be a citizen of India
- II. Must not be less than 25 years of age
- III. Must hold an office of profit under Union Government.

लोकसभा का सदस्य बनने के लिए किसी व्यक्ति की न्यूनतम योग्यता क्या होनी चाहिए?

- I. वह भारतीय नागरिक होना चाहिए।
- II. वह कम से कम 25 वर्ष की आयु का होना चाहिए।
- III. वह केंद्रीय सरकार के अंतर्गत किसी लाभवित्त पद पर होना चाहिए।

Options:

1) Both I and II

I तथा II दोनों

2) Both I and III

I तथा III दोनों

3) Both II and III

II तथा III दोनों

4) All I, II and III

I, II तथा III सभी

Correct Answer: Both I and II

I तथा II दोनों

Candidate Answer: Both I and II

I तथा II दोनों

QID : 289 - In Indian parliamentary system, the leader of the largest opposition party having not less than _____ seats of total strength of the house is recognized as the leader of the opposition in that House.

भारतीय संसदीय प्रणाली, सबसे बड़ी विपक्षी पार्टी के लीडर जिसके पास सदन की कुल संख्या की _____ सीटों से कम नहीं है, उस सदन के विपक्षी दल का लीडर माना जाता है।

Options:

1) 1/10th

1/10 वीं

2) 1/9th

1/9 वीं

3) 1/8th

1/8 वीं

4) 1/7th

1/7 वीं

Correct Answer: 1/10th

1/10 वीं

Candidate Answer: 1/10th

1/10 वीं

QID : 290 - What is regulated by the sphincter muscle in the stomach?

अवरोधनी पेशी द्वारा अमाशय में क्या नियंत्रित किया जाता है?

Options:

- 1) Exit of the food from the stomach
अमाशय से भोजन का निकास
- 2) Entry of food in the stomach
अमाशय में भोजन का प्रवेश
- 3) Mixing of food in the stomach
अमाशय में भोजन का मिश्रण
- 4) Exit of food from the large intestine
वृहदांत से भोजन का निकास

Correct Answer: Exit of the food from the stomach
अमाशय से भोजन का निकास

Candidate Answer: Exit of the food from the stomach
अमाशय से भोजन का निकास

QID : 291 - _____ of species is a reflection of their evolutionary relationships.

जीवों का _____ उनके विकास के संबंधों का प्रतिबिंब है।

Options:

- 1) Characteristics
अभिलक्षण
- 2) Adaptation
अनुकूलन
- 3) Illustration
दृष्टांत
- 4) Classification
वर्गीकरण

Correct Answer: Classification
वर्गीकरण

Candidate Answer: Characteristics
अभिलक्षण

QID : 292 - National Skill Development Corporation (NSDC) and _____ are planning to launch 'Android Skill Development Programme' to impart mobile app development training.

राष्ट्रीय कौशल विकास निगम (एनएसडीसी) तथा _____ मोबाइल ऐप विकास प्रशिक्षण देने के लिए 'एंड्रॉइड स्किल डेवलपमेंट प्रोग्राम' लोकार्पित करने की योजना बना रहे हैं।

Options:

- 1) Microsoft
माइक्रोसॉफ्ट
- 2) Google
गूगल
- 3) Amazon
अमेज़न
- 4) Infosys
इंफोसिस

Correct Answer: Google
गूगल

Candidate Answer: Google
गूगल

QID : 293 - What is the name of the technology developed by Australian Scientists to transform soybean oil into graphene?

सोयाबीन तेल को ग्राफीन में बदलने के लिए ऑस्ट्रेलियाई वैज्ञानिकों द्वारा विकसित प्रौद्योगिकी का नाम क्या है?

Options:

- 1) Grape
ग्रेप
- 2) GraphOne
ग्राफवन
- 3) GraphSoy
ग्राफसोए
- 4) GraphAir
ग्राफएयर

Correct Answer: GraphAir
ग्राफएयर

Candidate Answer: [NOT ANSWERED]

QID : 294 - In August 2017, who launched 'S&P BSE Bharat 22 Index'?

अगस्त 2017 में, किसने 'एस एंड पी बीएसई भारत-22 सूचकांक' लोकार्पित किया?

Options:

- 1) Asia Index
एशिया सूचकांक
- 2) Europe Index
यूरोप सूचकांक
- 3) Australia Index
ऑस्ट्रेलिया सूचकांक
- 4) Africa Index
अफ्रीका सूचकांक

Correct Answer: Asia Index

एशिया सूचकांक

Candidate Answer: [NOT ANSWERED]

QID : 295 - On 3 January 2018, Lok Sabha passed Ancient Monuments and Archaeological Site and Remains (Amendment) Bill, 2017 which amends the _____.

3 जनवरी 2018 को, लोकसभा ने प्राचीन स्मारक तथा पुरातत्व स्थल तथा अवशेष (संशोधन) विधेयक, 2017 को पारित किया जो _____ संशोधित करता है।

Options:

- 1) Ancient Monuments and Archaeological Sites and Remains (AMASR) Act, 1958
प्राचीन स्मारक तथा पुरातत्व स्थल एवं अवशेष (एएमएसआर) अधिनियम, 1958
- 2) Ancient Monuments and Archaeological Sites and Remains (AMASR) Act, 1978
प्राचीन स्मारक तथा पुरातत्व स्थल एवं अवशेष (एएमएसआर) अधिनियम, 1978
- 3) Ancient Monuments and Archaeological Sites and Remains (AMASR) Act, 1988
प्राचीन स्मारक तथा पुरातत्व स्थल एवं अवशेष (एएमएसआर) अधिनियम, 1988
- 4) Ancient Monuments and Archaeological Sites and Remains (AMASR) Act, 1996
प्राचीन स्मारक तथा पुरातत्व स्थल एवं अवशेष (एएमएसआर) अधिनियम, 1996

Correct Answer: Ancient Monuments and Archaeological Sites and Remains (AMASR) Act, 1958

प्राचीन स्मारक तथा पुरातत्व स्थल एवं अवशेष (एएमएसआर) अधिनियम, 1958

Candidate Answer: Ancient Monuments and Archaeological Sites and Remains (AMASR) Act, 1978

प्राचीन स्मारक तथा पुरातत्व स्थल एवं अवशेष (एएमएसआर) अधिनियम, 1978

QID : 296 - Find the kinetic energy (in J) possessed by a body of mass 10 kg moving with a velocity of 5 m/s.

10 किलोग्राम द्रव्यमान वाली वस्तु की गतिज ऊर्जा (जूल में) ज्ञात करें जिसका वेग 5 मीटर/सेकंड है।

Options:

- 1) 25
- 2) 125
- 3) 62.5
- 4) 50

Correct Answer: 125

Candidate Answer: [NOT ANSWERED]

QID : 297 - If the acceleration due to gravity on the surface of earth is g , then the acceleration due to gravity on the surface of a planet whose mass is double that of earth and radius is same as that of earth is _____.

यदि पृथ्वी की सतह पर गुरुत्वीय त्वरण g है तो ऐसा ग्रह जिसका द्रव्यमान पृथ्वी के द्रव्यमान से दुगुना तथा जिसकी त्रिज्या पृथ्वी की त्रिज्या के बराबर हो, पर गुरुत्वीय त्वरण _____ होगा।

Options:

- 1) $2g$
- 2) g
- 3) $g/2$
- 4) $4g$

Correct Answer: $2g$

Candidate Answer: $g/2$

QID : 298 - An earthquake of magnitude 6 on Richter scale has _____ times more destructive energy than an earthquake of magnitude 4.

रिक्टर पैमाने पर, 6 परिमाण के किसी भूकंप की विनाशी उर्जा 4 परिमाण के भूकंप की तुलना में _____ गुनी अधिक होती है।

Options:

- 1) ten
दस
- 2) hundred
सौ
- 3) five
पांच
- 4) thousand
हजार

Correct Answer: thousand

हजार

Candidate Answer: thousand

हजार

QID : 299 - Which of the statements given below are **correct**?

- A) In 2017, Gary Cahill captained the Premier League team Chelsea.
- B) In 2017, Jordan Henderson captained the Premier League team Liverpool.
- C) Canada hosted the 2017 AIBA World Boxing Championships.

निम्नलिखित में से कौन सा कथन सत्य है?

- A) 2017 में गैरी काहिल ने प्रीमियम लीग टीम चेल्सी की कप्तानी की।
- B) 2017 में जॉर्डन हेंडरसन ने प्रीमियर लीग टीम लिवरपूल की कप्तानी की।
- C) कनाडा ने 2017 एआईबीए वर्ल्ड बॉक्सिंग चैंपियनशिप की मेजबानी की।

Options:

1) Only B

केवल B

2) Both A and B

A और B दोनों

3) Both B and C

B और C दोनों

4) None of these

इनमें से कोई नहीं

Correct Answer: Both A and B

A और B दोनों

Candidate Answer: [NOT ANSWERED]

QID : 300 - _____ is the premier trade body of and the chamber of commerce of the IT-BPO industry in India.

_____ प्रमुख व्यापार निकाय है और भारत में आईटी-बीपीओ उद्योग का चैंबर ऑफ कॉमर्स।

Options:

1) NIC

एनआईसी

2) NASSCOM

नैसकॉम

3) Department of Information Technology

सूचना प्रौद्योगिकी विभाग

4) State Bank of India

स्टेट बैंक ऑफ इंडिया

Correct Answer: NASSCOM

नैसकॉम

Candidate Answer: Department of Information Technology

सूचना प्रौद्योगिकी विभाग



Latest Sarkari jobs, Govt Exam alerts, Results and Vacancies

- ▶ Latest News and Notification
- ▶ Exam Paper Analysis
- ▶ Topic-wise weightage
- ▶ Previous Year Papers with Answer Key
- ▶ Preparation Strategy & Subject-wise Books

To know more [Click Here](#)



www.prepp.in